

§ 3.2.1, § 3.2.2

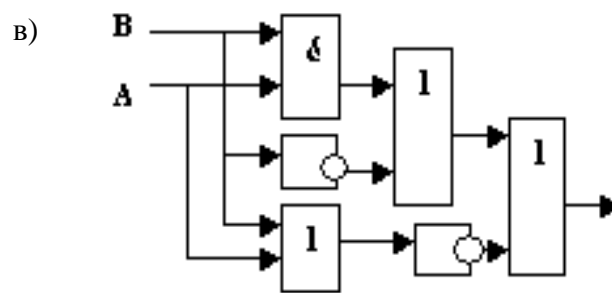
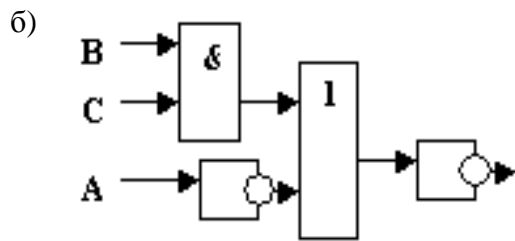
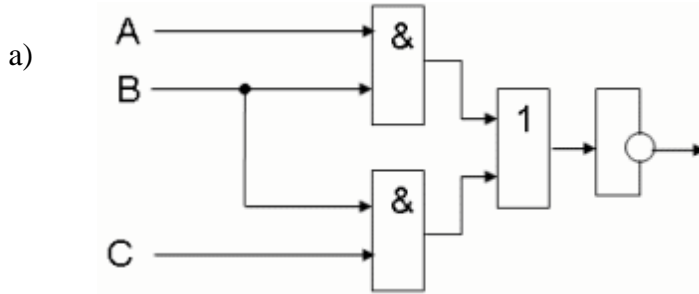
Подготовиться к контр.работе

(составление таблиц истинности, решение логич. задач, составление логич. схем)

1) Построить логич. схему для функции:

$$F = A \& B \vee \bar{C}$$

2) По схеме записать логическую функцию



§ 3.2.1, § 3.2.2

Подготовиться к контр.работе

(составление таблиц истинности, решение логич. задач, составление логич. схем)

1) Построить логич. схему для функции:

$$F = A \& B \vee \bar{C}$$

2) По схеме записать логическую функцию

